




Unterschiedliche Perlenketten auffädeln




1 Lisa fädelt immer 3 Perlen auf.

Zeichne alle Möglichkeiten, wie sie die Perlen aneinanderreihen kann.

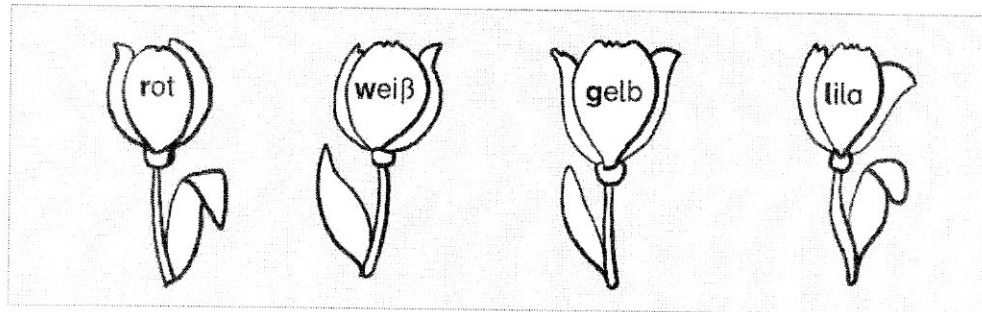
2 Zeichne alle Möglichkeiten, wie Lisa ihre Perlen auffädeln kann, wenn die gestreifte und die gepunktete Perle nicht nebeneinanderliegen sollen.

# Zusatzaufgabe

Einstern 2



## Viele Möglichkeiten finden



- 1 Im Garten sollen rote, weiße, gelbe und lila Tulpen eingepflanzt werden.  
Immer 3 Tulpen sollen in einer Reihe stehen. In einer Reihe dürfen nie Tulpen mit der gleichen Farbe stehen.

b) Schreibe auf, wie die Tulpen in Reihen gepflanzt werden können.

r	w	g									
r	w	l									
r	g	w									
r	g	l									
